

Всероссийская олимпиада школьников 2023-2024 учебный год  
Школьный этап.

Предмет география

ТИТУЛЬНЫЙ ЛИСТ

Шифр участника T10-2

Фамилия Зборовская

Имя Анна

Отчество Васильевна

Класс 10А

Сокращенное наименование образовательной организации (школы)

МАОУ СШ 115

Всероссийская олимпиада школьников 2023-2024 учебный год  
Школьный этап.

Предмет география

ТИТУЛЬНЫЙ ЛИСТ

Шифр участника

Г10-2

Всероссийская олимпиада школьников 2023-2024 учебный год  
Школьный этап. География, 10-11 класс  
Время выполнения 90 мин. Максимальное кол-во баллов – 79  
Теоретический тур

№ задания	Правильный ответ	Кол-во баллов
1	Б	1
2	Б	1
3	Г	1
4		0
5	А	1
6	А-4 Б-5 В-6 Г-3 А-2	5
7	124	1
8	А	1
9	Лена	1
10	А-6 Б-3 В-1 Г-5	3
11	А-медь, Б-алмазы, В-марганец, Г-железо	3
12	протестантизм	1
13	АВВА	2
14	В	1
15		0
16	В	1
17	Г	1
18		0
19	В	0
20	Б	1
Максимальное количество баллов		25

Практический тур

Задание №1.

Определите географический район по его характеристике

№	Вопрос	Ответы	Кол-во баллов
1.	Назовите географический район	Поволжье	2
2.	Какая река протекает по территории географического района	Волга	2
3.	Какие республики входят в состав географического района	Татарстан,	1
4.	Назовите основные/ведущие отрасли специализации географического района		
5.	Назовите города-миллионеры географического района	Самара, Казань, Волгоград	2
<b>Максимальное количество баллов</b>			<b>7</b>

Задание №2.

Рассчитайте ресурсообеспеченность страны.





№	Страна	Кол-во баллов	Количество лет	Кол-во баллов
1.	Индия			
2.	Япония			
3.	Китай			
4.	Бразилия			
5.	Австралия			


Максимальное количество баллов - 10 0

Задание № 3.

Определите туристический объект, его название и страну, в которой он находится. Запишите название туристического объекта и страну его нахождения.

№	Туристический объект	Название туристического объекта	Кол-во баллов	Страна нахождения туристического объекта	Кол-во баллов

1.		Колузен	1	Умоине	1
2.		Терракотове војска	1	Кина	1
3.		Москва- Сити	1	<del>Москва</del> Сити	1
4.		<del>Музеј</del> Лувр	1	Франција	1

5.		Таж- - Махал	1	Индия	1
----	---	-----------------	---	-------	---

Максимальное количество баллов – 10 баллов.

Задание №4.

1.

Цифра на карте	Буква название графика	Количество баллов
1		
2		
3		
4		
Максимальный балл		0

2. За каждую правильно заполненную ячейку по 1 баллу. Итого максимальный балл за задание – 12 баллов

Буква графика	Название населенного пункта	Название страны	Название климатического пояса
А			
Б			
В			
Г			

0